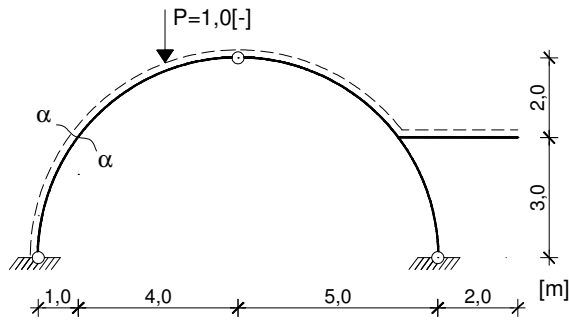
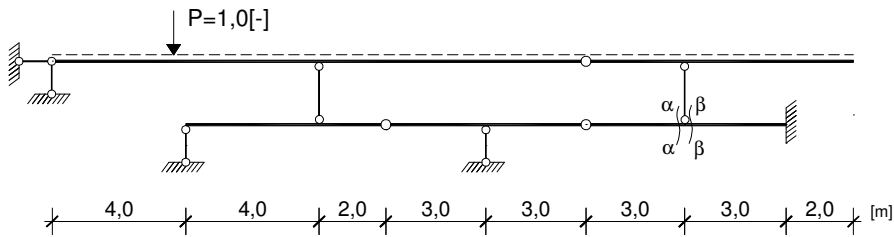


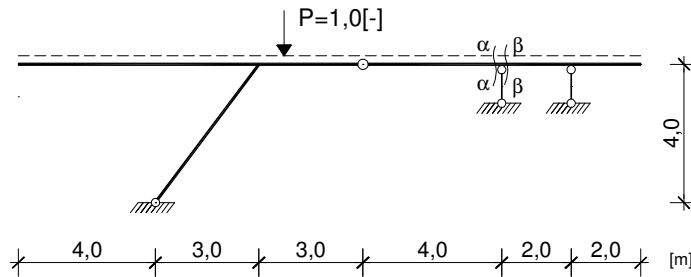
Zad.1. Wyznaczyć linie wpływu reakcji podporowych oraz sił przekrojowych M_α , N_α .



Zad.2. Naszkicować przebieg linii wpływu LwT_α , LwT_β przy obciążeniu pośrednim.



Zad.3. Wyznaczyć linie wpływu sił przekrojowych T_α , T_β .



Zad.4. Wyznaczyć linię wpływu siły w zaznaczonym przęcie kratownicy S.

